

일반물리학및실험1 실험실습용 / 무단 전재 및 재배포 금지

4. 물리진자



일반물리학및실험1 실험실습용 / 무단 전재 및 재배포 금지

장비 구성

포사체 실험 장치 (무선 스마트 게이트)	
Physical Pendulum Set	ME-9833
Wireless Rotary Motion Sensor	PS-3220
Large Rod Base	ME-8735
Stainless Steel Rod, 45cm	ME-8736
Super Pulley with Clamp	ME-9448B

dongguk
UNIVERSITY



일반물리학및실험1 실험실습용 / 무단 전재 및 재배포 금지

일반물리학및실험1 실험실습용 / 무단 전재 및 재배포 금지

목 표

물리진자의 운동을 통해 진자의 진동 주기를 측정하고, 관성모멘트 및 중력가속도에 대한 이해를 증진시킬 수 있다.

기본 이론

1. 물리진자의 주기

강체가 그 질량중심이 아닌 고정된 임의의 점에 걸쳐서 매달려 있고 진폭이 작은 진동을 하고 있다면, 그 진동은 단순 조화 운동(단진동)에 가깝다. 그리고 진동의 주기는 중력가속도 및 강체의 관성모멘트에 의해 결정된다. 따라서 물리진자는 중력가속도와 관성모멘트 사이의 관계를 보여줄 수 있는 유용한 장치라 할 수 있다.

진자의 주기 T 에 관하여 분석해보면,

단순 진자일 경우 : $T = 2\pi\sqrt{\frac{L}{g}}$ 이고,

물리진자일 경우 : $T = 2\pi\sqrt{\frac{I}{MgL_{cg}}}$ 가 된다.

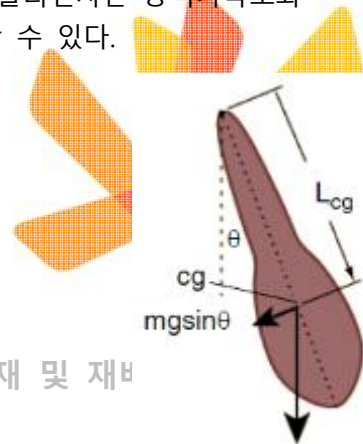


그림 1

이때, T 는 주기 물리학및실험1 실험실습용 / 무단 전재 및 재배포 금지

L 은 단진자 길이

g 는 중력가속도

I 는 중심점에 대한 관성모멘트

M 은 진자의 질량

L_{cg} 는 회전축(중심점)에서 무게중심(cg)까지의 거리를 나타낸다.

첫 번째 식은 I 가 ML_{cg}^2 일 때, 즉 강체가 질점일 때의 특별한 경우를 보여준다. 위의 결과는 모두 진폭이 매우 작을 때 성립한다.

2. 토크와 관성모멘트

물체가 축을 중심으로 가속될 경우, 물체가 받는 토크는 모멘트 팔의 길이와 힘의 곱으로 정의된다.

(모멘트 팔은 힘이 작용하는 선과 중심점 사이의 수직 거리를 의미)

$$\tau = rF$$

일반물리학및실험1 실험실습용 / 무단 전재 및 재배포 금지

관성모멘트 측정을 위한 기본 셋업은 그림 2에서와 같으며, $\tau = rF$ 이고, F 는 줄의 장력, r

은 줄이 감겨있는 회전운동센서 도르래의 회전반경을 나타낸다. 그리고 이때 낙하하는 질량체가 받는 알짜힘은 장력과 추의 무게의 차이 즉, $\Sigma F = mg - F = ma$ 이고, 이에 따라 가속도가 결정된다.

일반물리학

및 재배포 금지

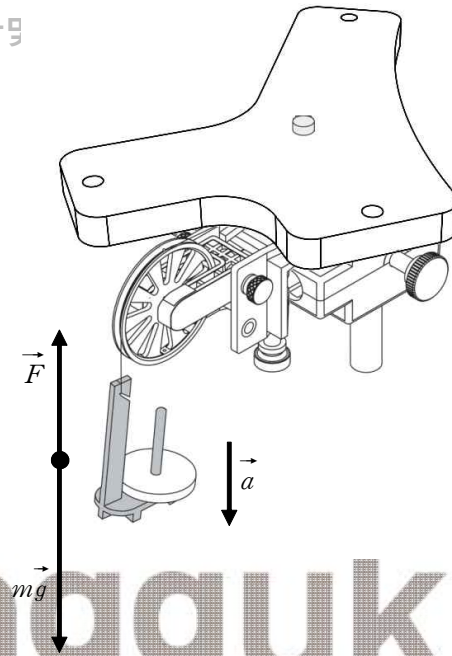


그림 2

이 식에 의하면 장력 F 는 $F = mg - ma$ 로 표현되고, 실이 미끄러지지 않는다면 가속도 a 는 회전체의 각가속도 α 와 $a = r\alpha$ 의 관계를 가진다. 따라서 회전체에 관한 운동방정식은 다음과 같다.

일반물리학및실험1 실험실습용 / 무단 전재 및 재배포 금지

$$\tau = rF = rmg - rma = rmg - rm(r\alpha)$$

$$\tau = rm(g - r\alpha)$$

그러므로 회전체의 관성모멘트는 다음과 같이 나타낼 수 있다.

$$I = \frac{\tau}{\alpha} = \frac{rm(g - r\alpha)}{\alpha}$$

각가속도는 회전운동센서를 이용하여 실험적으로 측정할 수 있다.

3. 평행축 정리

물리진자에서 하나의 축에 대한 관성모멘트는 평행축 정리 $I_{pivot} = I_{cg} + ML_{cg}^2$ 을 통하여 찾아낼 수 있다. 이때, I_{pivot} 은 고정된 지점에 대한 관성모멘트이고, I_{cg} 는 질량중심에 대한 관성모멘트, 그리고 L_{cg} 는 중심점에서 질량중심까지의 거리이다. 즉, 평행축에서 관성모멘트는 회전하고 있는 물체의 질량이 회전축에 대하여 얼마만큼 어떻게 분포하고 있는가에 대한 척도이며, 또한 회전을 지속하려는 성질의 크기라고도 할 수 있다.

일반물리학및실험1 실험실습용 / 무단 전재 및 재배포 금지

[실험 1] 막대의 최소 진동 주기

이 실험에서는 28cm 진자막대의 최소 진동 주기가 형성되는 위치를 판별한다.

-이론

길이가 L 인 긴 막대의 무게중심에 대한 관성모멘트는 $I_{cg} = \frac{1}{12}ML^2$ 이다. (M : 질량, L : 전체 길이)

실험에서 사용하는 진자 막대에 대한 보다 정확한 물리적 모델은 28cm의 직육면체 막대이고, 이때의 무게중심에 대한 관성모멘트는 $I_{cg} = \frac{1}{12}M(a^2 + b^2)$ 이다. (M : 진자막대 질량, a : 길이, b : 두께)

그러나 만약, $a \gg b$ 라면 근사식으로써 $I_{cg} = \frac{1}{12}ML^2$ 를 사용해도 무방하다.

평행축 정리에 따르면 막대의 무게중심에 대한 관성모멘트와 새로운 회전중심에 대한 관성모멘트 사이의 관계는 다음과 같다.

$$I_{pivot} = I_{cg} + ML_{cg}^2 \quad (L_{cg}: \text{회전중심에서 무게중심까지 거리})$$

물리진자의 주기는 관성모멘트, 질량, 회전중심에서 무게, 회전중심까지의 거리에 따라 달라진다. **일반물리학및실험1 실험실습용 / 무단 전재 및 재배포 금지**

주기 $T = 2\pi\sqrt{\frac{I_{pivot}}{mgL_{cg}}}$ 이므로,

28cm의 진자막대 주기는 $T = 2\pi\sqrt{\frac{\frac{1}{12}ML^2 + ML_{cg}^2}{MgL_{cg}}} = 2\pi\sqrt{\frac{\frac{1}{12}L^2 + L_{cg}^2}{gL_{cg}}}$ 이 된다.

간단한 미분을 이용해 주기 T 를 L_{cg} 에 관하여 미분하면 어느 지점에서 주기가 최소가 되는지 알 수 있다. 미분값을 0으로 놓고 L_{cg} 에 관하여 풀어주면 주기가 최소가 되는 거리는

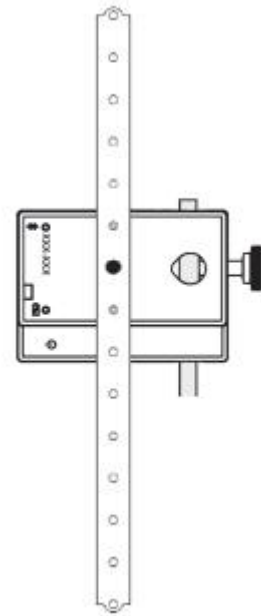
$$L_{cg} = \frac{1}{\sqrt{12}}L \text{ 이 됨을 알 수 있다.}$$

일반물리학및실험1 실험실습용 / 무단 전재 및 재배포 금지

[실험 1] 실험 방법

[1-1. 설치 : L_{cg} 의 차이에 따른 주기 측정] / 무단 전재 및

- ① 막대의 길이를 측정하여 기록한다.
- ② 회전운동센서의 회전축이 테이블 면과 평행하도록 스탠드에 가로로 설치한다.
- ③ 마운팅 나사를 이용하여 막대를 회전운동센서의 회전축에 고정한다. 이때, 막대의 중앙에서 한 칸 위쪽의 구멍에 고정하여, 무게중심으로부터 2cm 위쪽(위에서부터 7번째 점)이 회전점이 되도록 한다.



[1-2. 컴퓨터 설정 : L_{cg} 의 차이에 따른 주기 측정]

- ① 회전운동센서의 전원을 켜고 Capstone 프로그램을 실행하여 블루투스를 통해 컴퓨터와 연결한다.
- ② Capstone 화면에 '각도(rad) vs. 시간(s)' 그래프를 구성한다.

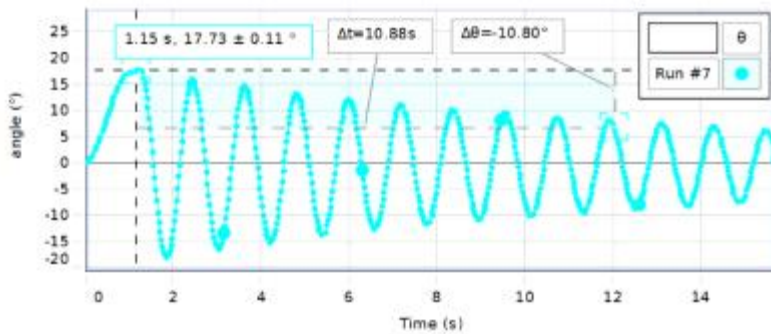
[1-3. 데이터 기록 : L_{cg} 의 차이에 따른 주기 측정]

- ① 20° 이내의 작은 진폭에서 막대를 진동시킨다.
- ② Recording 버튼을 클릭하여 데이터 기록을 시작한다. 25초 정도 후, Stop 버튼을 클릭한다.
- ③ 다음 구멍에 마운팅 나사를 조여준다. (가운데 구멍에서 4cm 떨어진 지점)
- ④ 진자를 진동시키고 25초간 데이터를 기록한다. 무단 전재 및 재배포 금지
- ⑤ 중앙에서 6cm, 8cm, 10cm, 12cm, 14cm 거리의 구멍에서 위 과정을 반복한다.

그림 8. 셋업

[1-4. 분석 : L_{cg} 의 차이에 따른 주기 측정]

- ① 테이블 디스플레이를 구성하여 열 1에는 회전점으로부터의 거리, 열2에는 주기를 입력하도록 한다.
- ② 주기 측정하기
 - (a) 그래프 도구막대에서 Coordinate Tool을 클릭한다.
 - (b) 각도의 첫 번째 피크점에 Coordinate Tool을 놓는다.
 - (c) 마우스 오른쪽을 클릭하여 Show Delta Tool을 선택한다.
 - (d) 각도의 열 번째 피크점에 Show Delta Tool로 생긴 영역의 우측 하단 점 드래그하여 옮긴다.
 - (e) 열 번의 진동에 대한 시간 10으로 나누어 진동 주기를 계산한다.



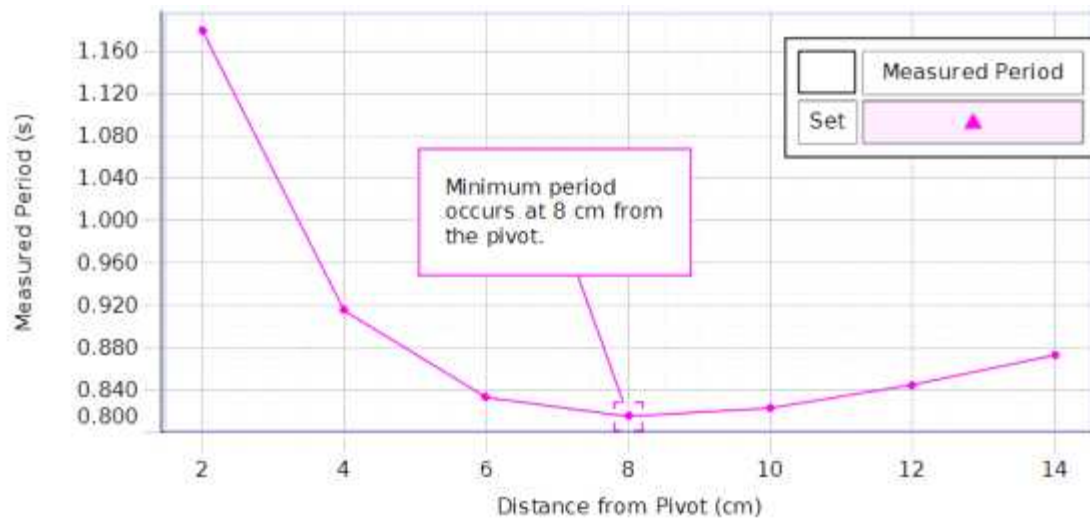
재배포 금지

- ③ 회전점으로부터의 거리에 따른 주기 데이터 테이블을 완성한다.
(이 때, 이전 데이터를 불러오고 싶으면 Record버튼 왼쪽의 재생버튼을 눌러서 이전의 기록들을 가져올 수 있다.)

	⏸ Set	▶ Set
	Distance from Pivot (cm)	Measured Period (s)
1	14	0.873
2	12	0.845
3	10	0.823
4	8	0.815
5	6	0.833
6	4	0.915
7	2	1.180



- ④ '주기 vs. 길이' 그래프 페이지를 새로 구성한다.(measurement 클리프 후 create new 항목에서 새로 지정해야 한다.)
- ⑤ 진동막대의 진동 주기가 최소가 되는 길이 L_{cg} 를 결정하고, 데이터 영역에 이 길이를 기록한다.
- ⑥ '주기 vs. 길이' 그래프를 이론과 비교해본다.



dongguk
UNIVERSITY



일반물리학및실험1 실험실습용 / 무단 전재 및 재배포 금지

일반물리학및실험1 실험실습용 / 무단 전재 및 재배포 금지

[실험 2] 진동주기 측정을 통한 관성모멘트 값 결정

진자를 통해서 관성모멘트 값을 유추하고 확인한다. 무단 전재 및 재배포 금지

-이론


물리진자의 진동 주기 T 는 회전중심에 대한 관성모멘트 I_{pivot} 과 질량 M , 그리고 회전중심과 무게중심 사이의 거리 L_{cg} 에 의해 다음과 같이 결정된다.

$$T = 2\pi \sqrt{\frac{I_{pivot}}{MgL_{cg}}} = 2\pi \sqrt{\frac{I_{cg} + ML_{cg}^2}{MgL_{cg}}}$$

평행축 정리에 따르면 회전중심에 대한 관성모멘트 I_{pivot} 는 무게중심에 대한 관성모멘트 값과 ML_{cg}^2 의 합으로 주어진다.

반대로, 무게중심의 관성모멘트는 다음과 같이 나타낼 수 있다.

$$I_{cg} = \frac{T^2 MgL_{cg}}{4\pi^2} - ML_{cg}^2$$



일반물리학및실험1 실험실습용 / 무단 전재 및 재배포 금지

일반물리학및실험1 실험실습용 / 무단 전재 및 재배포 금지

[실험 2] 실험 방법

[0. 디스크의 관성모멘트 이론값 계산] / 무단 전재 및 재배포 금지

디스크의 질량 M 에 따른 관성모멘트는 일반적으로 $I_{cg} = \frac{1}{2}MR^2$ 이다.

[1-1. 설치 : 진동 주기 측정]

- ① 디스크의 질량 M 을 측정하여 기록한다.
- ② 디스크의 가장자리의 회전점에서부터 디스크 중심까지의 거리 L_{cg} 를 측정하여 기록한다.
- ③ 회전운동 센서의 회전축이 테이블 면과 평행하도록 스탠드에 가로로 설치한다.
- ④ 마운팅 나사를 이용하여 디스크 가장자리의 회전점을 회전운동센서 회전축에 고정한다.

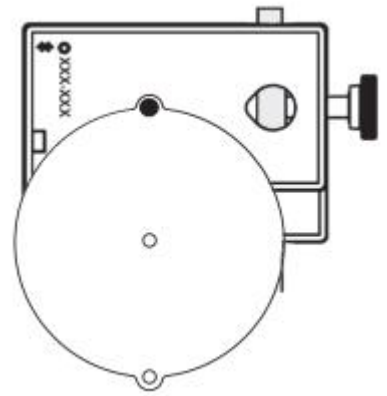


그림 9. 셋업

[1-2. 컴퓨터 설정 : 진동 주기 측정]

- ① 회전운동센서의 전원을 켜 후, Capstone 프로그램을 실행하여 컴퓨터에 연결시킨다.
- ② Capstone 화면에 '각도(rad) vs. 시간(s)' 그래프를 만든다.
- ③ 하단의 컨트롤 막대에서 샘플링 속도를 10Hz에서 100Hz까지 증가시킨다.
- ④ 왼쪽 도구 팔레트에서 Calculator 창을 열고 특수(special) 항목에서 'period'를 선택한다.
- ⑤ 계산기에서 변수 'x'는 빈칸으로 되어 있다. 그 위치에 마우스 커서를 놓고 insert data 버튼을 클릭하면 원하는 측정값(이 경우엔 angle(rad)를 선택하여 넣어준다.)을 변수에 입력할 수 있다.
- ⑥ 계산기 창에서 Period 함수를 이용한 계산 결과를 원하는 이름으로 지정해준 후, Accept 아이콘을 클릭한다.(특별한 이름 지정이 없을 경우 Calc1, Calc2 식으로 자동으로 이름이 생성됨)

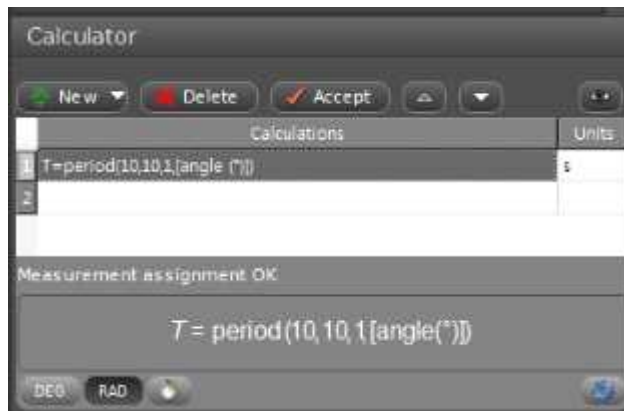


그림 10. 계산기 창에서 Period 함수 입력하기

- ⑦ 'period(Cal1) vs. time'의 새 그래프를 생성하고, y축을 계산기에서 정의한 Period(Cal1) 값으로 설정한다.
- ⑧ 'period(Cal1) vs. time' 그래프 도구막대에서 Statistics 도구 아이콘을 클릭한 다음, 'Mean'을 선택한다.

일반물리학및실험1 실험실습용 / 무단 전재 및 재배포 금지

[1-3. 데이터 기록 : 진동 주기 측정]


- ① 작은 진폭에서부터 시작하여 디스크를 진동시킨다. (20도 이내)
- ② Recording 버튼을 클릭하여 데이터를 기록을 시작한다. 25초 정도 후에 Stop 버튼을 클릭하여 데이터 기록을 중지한다. '각도 vs. 시간' 그래프와 '주기 vs. 시간' 그래프가 나타난다.
- ③ 과정을 3회 반복하여 진동 주기의 평균값을 구한다.

[1-4. 분석 : 진동 주기 측정]

- ① 주기 T , 질량 M , 거리 L_{cg} 를 사용하여 관성모멘트 값을 계산한다.

$$I_{cg} = \frac{T^2 Mg L_{cg}}{4\pi^2} - ML_{cg}^2$$

② 관성모멘트 값을 계산하여 기록한다.



일반물리학및실험1 실험실습용 / 무단 전재 및 재배포 금지

일반물리학및실험1 실험실습용 / 무단 전재 및 재배포 금지

[실험 3] 물리진자를 사용한 중력가속도(g) 측정

물리진자를 사용하여 중력가속도를 측정한다. / 무단 전재 및 재배포 금지

-이론

진폭이 작을 때, 물리진자의 운동은 '단순 조화 운동'과 유사하며, 이론적인 진동 주기 T 는 다음과 같다.

$$T = 2\pi \sqrt{\frac{I_{\text{pivot}}}{MgL_{\text{cg}}}}$$

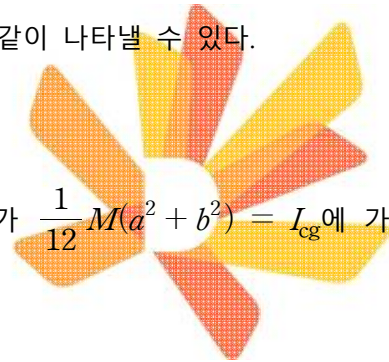
이 때 I_{pivot} 은 물리진자의 회전중심에 대한 관성모멘트, M 은 질량, L_{cg} 는 회전중심에서 무게중심까지의 거리이다. 평행축 정리에 따르면 평행축에 대한 관성모멘트 I_{pivot} 값은 무게중심에 대한 관성모멘트 I_{cg} 값과 물체 전체를 무게중심에 밀집된 한 점으로 간주했을 때의 관성모멘트 값의 합으로 주어진다. 따라서 주기 T 는 다음과 같이 나타낼 수 있다.

$$T = 2\pi \sqrt{\frac{I_{\text{cg}} + ML_{\text{cg}}^2}{MgL_{\text{cg}}}}$$

28cm 막대와 같은 물리진자에서는 무게중심의 관성모멘트가 $\frac{1}{12}M(a^2 + b^2) = I_{\text{cg}}$ 에 가깝다. (a 는 물리진자의 길이, b 는 폭이다.)

이를 중력 상수 g 에 대하여 정리하면 다음과 같다.

$$g = 4\pi^2 \left[\frac{I_{\text{cg}} + ML_{\text{cg}}^2}{MT^2 L_{\text{cg}}} \right]$$



일반물리학및실험1 실험실습용 / 무단 전재 및 재배포 금지

[실험 3] 실험 방법

[1-1. 설치 및 주기 측정] 일반물리학및실험1 실험실습용 / 무단 전재 및 재배포 금지

1. 막대의 길이 a 와 폭 b 를 측정하여 기록한다.
1. 막대의 질량 M 을 측정하여 기록한다.
2. 회전운동센서의 회전축이 테이블 면에 평행하도록 스탠드에 가로로 설치한다.
3. 마운팅 나사를 사용하여, 막대 끝을 회전운동센서의 회전축에 고정한다.

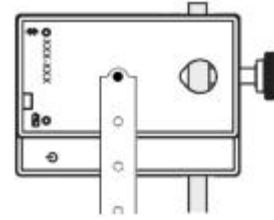


그림10. 장비 셋업

[1-2. 컴퓨터 설정 및 데이터 기록 : 주기 측정]

주기 측정 과정은 [실험 3]에서와 동일하다. 계산기의 Period 함수를 사용하거나 그래프의 좌표 분석을 통해 주기를 알아낼 수 있다.

[1-3. 분석 : 주기 측정]

2. 진동막대에 대한 진동 주기 T 의 평균값을 구하여 기록한다.
 - 1) 진동막대의 가운데 지점이 무게중심이라 가정하고(실제 무게중심과 살짝 차이가 나는 경우 그 차이를 측정하여 오차 분석에 활용할 수 있다), 회전중심에서 무게중심까지의 거리를 측정한다.
 - 2) 무게중심에 대한 관성모멘트 I_{cg} 의 이론값을 계산하고 기록한다.
 - 3) 회전중심에서 무게중심까지 거리 L_{cg} 와, 질량 M , 무게중심에 대한 관성모멘트 I_{cg} 와 주기 T 값들을 바탕으로, 중력가속도 g 값을 계산하고 기록한다. 일반물리학및실험1 실험실습용 / 무단 전재 및 재배포 금지
 - 4) 중력가속도 g 의 측정값과 이론값의 차이를 계산하고 확인해본다. (9.8 ms^{-2})